

# GIOCHI D'AUTUNNO 2013

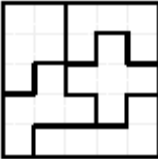
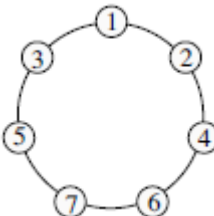
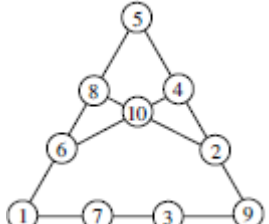
## FOGLIO RISPOSTE

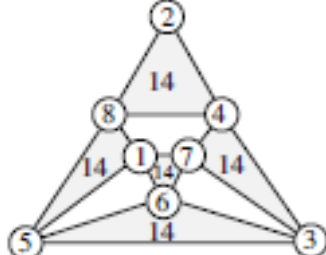
CATEGORIA

C1  C2  L1  L2

Tempo impiegato minuti

COGNOME ..... NOME..... (scrivere in stampatello ben leggibile)  
 DATA DI NASCITA .....  
 SCUOLA ..... Classe ..... Comune .....

		PUNTI
<b>1</b>	Il quarto giorno Archie utilizza in totale <b>820</b> cubi	
<b>2</b>	BA vale <b>48</b>	
<b>3</b>	L'altezza sarà di <b>2,5</b> cm	
<b>4</b>		
<b>5</b>		
<b>6</b>	Nell'anno <b>2024</b>	
<b>7</b>	«In questa frase, potete contare <b>10 (dieci)</b> «e» ».	
<b>8</b>		

<b>9</b>	La sveglia presenta quattro cifre consecutive <b>30</b> volte	
<b>10</b>	Il voto del quarto compito è <b>15</b>	
<b>11</b>		
<b>12</b>	Le dimensioni del giardino sono <b>25</b> m e <b>44</b> m	
<b>13</b>	Il perimetro del triangolo ABC è <b>16</b> cm	
<b>14</b>	Resteranno vuoti <b>2465</b> quadratini	
<b>15</b>	L'ultima cifra è <b>5</b>	
<b>16</b>	La probabilità è <b>1/3</b>	
<b>17</b>	Il 2014.esimo numero è <b>3546120</b>	
<b>18</b>	L'espressione vale <b>6</b>	

**TOTALE**